

ФОНДЫ ОЦЕНОЧНЫХ СРЕДСТВ

по дисциплине

ОП.03. ЭЛЕКТРОТЕХНИКА И ЭЛЕКТРОННАЯ ТЕХНИКА

программы подготовки специалистов среднего звена

по специальности

19.02.07 Технология молока и молочных продуктов
базовая подготовка

Форма проведения оценочной процедуры:

дифференцированный зачет

Советск,
2022 год

Согласовано
заведующий учебно-методическим отделом
Н.А. Ивашкина
31.08.2022 года

Фонды оценочных средств по специальности 19.02.07 Технология молока и молочных продуктов, базовой подготовки, разработаны на основе:

• Федерального государственного образовательного стандарта среднего профессионального образования по специальности 19.02.07 Технология молока и молочных продуктов, утвержденного приказом Министерства образования и науки Российской Федерации от 22 апреля 2014 года № 378, зарегистрировано в Минюсте России 18 июня 2014 года №32771, укрупненная группа специальностей 19.00.00 Промышленная экология и биотехнологии

Организация-разработчик: государственное бюджетное учреждение Калининградской области профессиональная образовательная организация «Технологический колледж»

Разработчик:

Ковалев С.А., преподаватель первой квалификационной категории

Рассмотрены на заседании методической кафедры «Технология продуктов питания и товароведения», протокол №1 от 30 августа 2022 года *Васильев*

Рекомендованы Методическим советом государственного бюджетного учреждения Калининградской области профессиональной образовательной организацией «Технологический колледж», протокол №1 от 31 августа 2022 года

Согласовано:
ЗАО "ЭкоМолПродукт"
генеральный директор
Бобина В.О.
Бобина В.О.



I. Паспорт фонда оценочных средств

1.1. Область применения

Фонды оценочных средств предназначены для проверки результатов освоения учебной дисциплины ОП.03. Электротехника и электронная техника программы подготовки специалистов среднего звена по специальности 19.02.07 Технология молока и молочных продуктов, базовой подготовки.

Фонды оценочных средств позволяют оценивать:

умения:

- использовать основные законы и принципы теоретической электротехники и электронной техники в профессиональной деятельности;
- читать принципиальные, электрические и монтажные схемы;
- рассчитывать параметры электрических, магнитных цепей;
- пользоваться электроизмерительными приборами и приспособлениями;
- подбирать устройства электронной техники, электрические приборы и оборудование с определенными параметрами и характеристиками;
- собирать электрические схемы

знания:

- способы получения, передачи и использования электрической энергии;
- электротехническую терминологию;
- основные законы электротехники;
- характеристики и параметры электрических и магнитных полей;
- свойства проводников, полупроводников, электроизоляционных, магнитных материалов;
- основы теории электрических машин, принцип работы типовых электрических устройств;
- методы расчета и измерения основных параметров электрических, магнитных цепей;
- принципы действия, устройство, основные характеристики электротехнических и электронных устройств и приборов;
- принципы выбора электрических и электронных устройств и приборов, составления электрических и электронных цепей;
- правила эксплуатации электрооборудования

общие компетенции, включающими в себя способность:

ОК 1. Понимать сущность и социальную значимость своей будущей профессии, проявлять к ней устойчивый интерес.

ОК 2. Организовывать собственную деятельность, выбирать типовые методы и способы выполнения профессиональных задач, оценивать их эффективность и качество.

ОК 3. Принимать решения в стандартных и нестандартных ситуациях и нести за них ответственность.

ОК 4. Осуществлять поиск и использование информации, необходимой для эффективного выполнения профессиональных задач, профессионального и личностного развития.

ОК 5. Использовать информационно-коммуникационные технологии в профессиональной деятельности.

ОК 6. Работать в коллективе и команде, эффективно общаться с коллегами, руководством, потребителями.

ОК 7. Брать на себя ответственность за работу членов команды (подчиненных), результат выполнения заданий.

ОК 8. Самостоятельно определять задачи профессионального и личностного развития, заниматься самообразованием, осознанно планировать повышение квалификации.

ОК 9. Ориентироваться в условиях частой смены технологий в профессиональной деятельности.

профессиональные компетенции, соответствующими видам деятельности:

ПК 1.3. Организовывать и проводить первичную переработку сырья в соответствии с его качеством.

ПК 2.3. Вести технологические процессы производства цельномолочных продуктов.

ПК 2.4. Вести технологические процессы производства жидких и пастообразных продуктов детского питания.

ПК 2.5. Контролировать качество цельномолочных продуктов, жидких и пастообразных продуктов детского питания.

ПК 2.6. Обеспечивать работу оборудования для производства цельномолочных продуктов, жидких и пастообразных продуктов детского питания.

ПК 3.2. Вести технологические процессы производства различных сортов сливочного масла.

ПК 3.3. Вести технологические процессы производства напитков из пахты.

ПК 3.4. Контролировать качество сливочного масла и продуктов из пахты.

ПК 3.5. Обеспечивать работу оборудования при выработке различных сортов сливочного масла и напитков из пахты.

ПК 4.3. Вести технологические процессы производства различных видов сыра.

ПК 4.4. Вести технологические процессы производства продуктов из молочной сыворотки.

ПК 4.5. Контролировать качество сыра и продуктов из молочной сыворотки.

ПК 4.6. Обеспечивать работу оборудования для производства различных видов сыра и продуктов из молочной сыворотки.

1.2. Формы промежуточной аттестации по учебной дисциплине в ходе освоения ПССЗ

Наименование учебной дисциплины	Форма промежуточной аттестации (зачет, дифференцированный зачет, экзамен)
ОП.03. Электротехника и электронная техника	дифференцированный зачет

Критерии оценки:

Ответ обучающегося оценивается по пятибалльной шкале. Общая экзаменационная оценка выводится из оценок за выполнение каждого из вопросов билета и является их средним арифметическим. Оценка обучающегося складывается из его знаний и умений выходить на различный уровень воспроизведения материала.

Оценка «отлично» ставится, если обучающийся полно, логично, осознанно излагает материал, выделяет главное, аргументирует свою точку зрения на ту или иную проблему, имеет системные полные знания и умения по поставленному вопросу. Содержание вопроса обучающийся излагает связно, в краткой форме, раскрывает последовательно суть изученного материала, демонстрируя прочность и прикладную направленность полученных знаний и умений, не допускает терминологических ошибок и фактических неточностей.

Оценка «хорошо» ставится, если обучающийся знает материал, строит ответ четко, логично, устанавливает причинно-следственные связи в рамках дисциплины, но допускает незначительные неточности в изложении материала и при демонстрации аналитических проектировочных умений. В ответе отсутствуют незначительные элементы содержания или присутствуют все необходимые элементы содержания, но допущены некоторые ошибки, иногда нарушалась последовательность изложения.

Оценка «удовлетворительно» ставится, если обучающийся ориентируется в основных понятиях, строит ответ на репродуктивном уровне, но при этом допускает неточности и ошибки в изложении материала, нуждается в наводящих вопросах, не может привести примеры, допускает ошибки методического характера при анализе дидактического материала и проектировании различных видов деятельности.

Оценка «неудовлетворительно» ставится, если обучающийся не ориентируется в основных понятиях, демонстрирует поверхностные знания, если в ходе ответа отсутствует самостоятельность в изложении материала либо звучит отказ дать ответ, допускает грубые ошибки при выполнении заданий аналитического и проектировочного характера.

2.Задания для оценки освоения умений и усвоения знаний

Задания промежуточной аттестации.

Тесты.

Инструкция для обучающихся

Тест состоит из частей А, В, С. На выполнение отводится 90 минут. Внимательно прочитайте каждое задание и предлагаемые варианты ответа, если они имеются. Отвечайте только после того, как Вы поняли вопрос и проанализировали все варианты ответа. Выполняйте задания в том порядке, в котором они даны. Если какое-то задание вызывает у Вас затруднение, пропустите его и постарайтесь выполнить те, в ответах на которые Вы уверены. К пропущенным заданиям можно будет вернуться, если у Вас останется время.

І вариант

Часть А.

К каждому заданию части А даны несколько ответов, из которых только один верный. Выберите верный, по вашему мнению, ответ, запишите его в бланке ответов. Например, А1. а; А2. б

А1. Сила взаимодействия двух точечных зарядов прямо пропорциональна произведению этих зарядов, обратно пропорциональна квадрату расстояния между ними и направлена по линии, соединяющей эти заряды – это закон

а) Кулона; б) Ампера; в) Гаука; г) Ома

А2. Величина, численно равная работе поля по перемещению единичного заряда из данной точки в бесконечность называется

а) напряжённость поля; б) работа поля; в) потенциал; г) энергия поля.

А3. Явление упорядоченного движения заряженных частиц называется

а) электрический ток; б) электрическое напряжение; в) электрическое сопротивление; г) электрическая энергия.

А4. Соединение элементов, при котором по всем участкам цепи протекает один и тот же ток называется

а) последовательным; б) параллельным; в) смешанным; г) комбинированным

А5. Измерительные приборы в цепях переменного тока показывают

а) мгновенное значение измеряемой величины; б) амплитудное значение измеряемой величины; в) максимальное значение измеряемой величины ;г) действующее значение измеряемой величины.

Часть В

При выполнении заданий В1 – В9 выберите несколько правильных ответов, в бланк ответов запишите ответ в виде последовательности букв в алфавитном порядке, относящихся к правильному ответу, без пропусков и знаков препинания (например, абг).

В1. Атом состоит из

а) протонов; б)нейтронов; в)электронов; г) молекул.

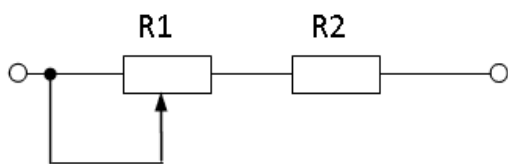
В2. К диэлектрикам относятся: а) фарфор ; б) латунь; в) бронза; г) пластмасса

В3. Электрическое сопротивление проводника зависит от : а) длины проводника; б) площади поперечного сечения; в) удельного сопротивления проводника; г) напряжения

В4.К методам расчёта электрических цепей относится

а) метод контурных токов; б) метод преобразования; в) метод наложения; г) метод коррекции

В5. Проанализируйте, как изменятся напряжения на R1 и R2 при перемещении ползунка реостата R1 влево? Напряжение на зажимах всей цепи остается неизменным.



а) UR1 уменьшится, б) UR2 увеличится; в) UR1

увеличится; г) UR2 уменьшится

В6. Материалы, применяемые в качестве изоляции проводов и кабелей

а) хлопчатобумажная пряжа; б) поливинилхлорид; в) медь; г) дерево

В7. Количество теплоты, выделяющееся в проводнике при прохождении по нему постоянного тока, прямо пропорционально

а) квадрату силы тока; б) силе тока; в) сопротивлению проводника; г) времени его прохождения

В8. Для трёхфазной цепи при симметричной нагрузке при соединении треугольником, соответствуют формулы

а) $U_{\phi} = U_{л}$; б) $I_{л} = I_{\phi}$; в) $U_{л} = \sqrt{3} \cdot U_{\phi}$; г) $I_{л} = \sqrt{3} \cdot I_{\phi}$

В9. Укажите материал изготовления короткозамкнутой обмотки ротора:

а) алюминий; б) медь; в) серебро; г) сталь

Часть С

Дайте развернутый ответ на вопрос.

С1. I вариант

Содержание верного ответа и указания к оцениванию (допускаются иные формулировки ответа, не искажающие его смысла) Определите сопротивление нити электрической лампы мощностью 100 Вт, если лампа рассчитана на напряжение 220 В. Решение Ответ	Баллы
Получен и обоснован правильный ответ	3
Ответ получен правильный, но не указаны единицы измерения	2
Способ решения правильный, но допущены ошибки в вычислениях	1
Решение неверно или отсутствует	0
Максимальный балл	3

Инструкция для студентов

Тест состоит из частей А, В, С. На выполнение отводится 50 минут. Внимательно прочитайте каждое задание и предлагаемые варианты ответа, если они имеются. Отвечайте только после того, как Вы поняли вопрос и проанализировали все варианты ответа.

Выполняйте задания в том порядке, в котором они даны. Если какое-то задание вызывает у Вас затруднение, пропустите его и постарайтесь выполнить те, в ответах на которые Вы уверены. К пропущенным заданиям можно будет вернуться, если у Вас останется время.

II вариант

Часть А.

К каждому заданию части А даны несколько ответов, из которых только один верный. Выберите верный, по вашему мнению, ответ, запишите его в бланке ответов. Например, А1. а; А2. б

А1. Совокупность устройств, предназначенных для создания в них электрического тока, называется

а) электрической мощностью; б) электрической цепью; в) контуром; г) ветвью.

А2. Измеряет силу тока

а) амперметр; б) ваттметр; в) вольтметр; г) счетчик электрической энергии.

А3. Ток, изменение которого по величине и направлению повторяется в одной и той же последовательности через равные промежутки времени, называется

а) постоянный; б) переменный; в) пульсирующий; г) прерывистый

А4. Место соединения трёх и более проводов называется

а) узел; б) ветвь; в) контур; г) крепление

А5. Основные источники электрической энергии

а) осветительные приборы; б) выпрямители; в) нагревательные приборы; г) тепловые, атомные и гидроэлектростанции

Часть В

При выполнении заданий В1 – В9 выберите несколько правильных ответов, в бланк ответов запишите ответ в виде последовательности букв в алфавитном порядке, относящихся к правильному ответу, без пропусков и знаков препинания (например, абг).

В1. Закон Ома выражается формулой

а) $I = E / R + r$; б) $U = I/R$; в) $I = U/R$; г) $R = I/U$

В2. К полупроводниковым материалам относятся

а) германий; б) кремний; в) железо; г) нихром.

В3. К основным характеристикам магнитного поля относятся

а) магнитная индукция; б) магнитная проницаемость; в) магнитное напряжение; г) магнитный ток

В4. Трёхфазный генератор состоит из

а) трёх одинаковых изолированных друг от друга обмоток; б) вращающегося электромагнита; в) трёх разных изолированных друг от друга обмоток; г) неподвижного электромагнита

В5. Получить режим резонанса можно получить изменением

а) сопротивления конденсатора X_c ;
б) сопротивления катушки индуктивности X_l ;
в) изменением питающего напряжения;
г) изменением силы тока в цепи.

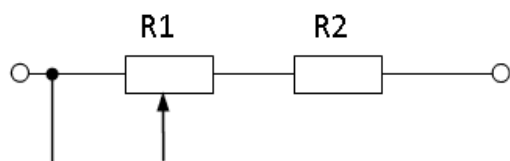
В6. Для трёхфазной цепи при симметричной нагрузке при соединении звездой, соответствуют формулы

а) $U_\phi = U_l$
б) $I_l = I_\phi$
в) $U_l = \sqrt{3} \cdot U_\phi$;
г) $I_l = \sqrt{3} \cdot I_\phi$

В7. При параллельном соединении конденсаторов

а) $C_{\text{экв}} = C_1 + C_2 + C_3$; б) $U = U_1 = U_2 = U_3$; в) $C_{\text{экв}} = C_1 \cdot C_2 / (C_1 + C_2)$; г) $U = U_1 + U_2 + U_3$

В8. Проанализируйте, как изменятся напряжения на R_1 и R_2 при перемещении ползунка реостата R_1 вправо? Напряжение на зажимах всей цепи остается неизменным.



а) U_{R1} уменьшится, б) U_{R2} увеличится; в) U_{R1} увеличится; г) U_{R2} уменьшится

В9. Для трёхфазной системы справедливы следующие соотношения мощностей
 а) $P = \sqrt{3}U_{л}I_{л}\cos\varphi$; б) $Q = \sqrt{3}U_{л}I_{л}\sin\varphi$; в) $S = \sqrt{3}U_{л}I_{л}$; г) $P = U_{л}I_{л}$

Часть С

Дайте развернутый ответ на вопрос.

С1. II вариант

Содержание верного ответа и указания к оцениванию (допускаются иные формулировки ответа, не искажающие его смысла) Какова потеря напряжения, если сопротивление одного провода двухпроводной линии постоянного тока равно 0,05 Ом, а через нагрузку течёт ток 10 А?	Баллы
Решение Ответ	
Получен и обоснован правильный ответ	3
Ответ получен правильный, но не учтено, что линия двухпроводная	2
Способ решения правильный, но допущены ошибки в вычислениях	1
Решение неверно или отсутствует	0
Максимальный балл	3

Инструкция для студентов

Тест состоит из частей А, В, С. На выполнение отводится 50 минут. Внимательно прочитайте каждое задание и предлагаемые варианты ответа, если они имеются. Отвечайте только после того, как Вы поняли вопрос и проанализировали все варианты ответа. Выполняйте задания в том порядке, в котором они даны. Если какое-то задание вызывает у Вас затруднение, пропустите его и постарайтесь выполнить те, в ответах на которые Вы уверены. К пропущенным заданиям можно будет вернуться, если у Вас останется время.

Эталоны ответов к тестовым заданиям

Часть А

I вариант			II вариант		
№ задания	ответ	ссылка на литературу	№ задания	ответ	ссылка на литературу
A1	а	Л.1. с.12	A1	б	Л.1 с.29
A2	в	Л1. с.21	A2	а	Л.1 с.31
A3	а	Л.1 с.27.	A3	б	Л.1 с.73
A4	а	Л1. с.34	A4	а	Л.1с.49
A5	г	Л1. с.120	A5	г	Л1. с.41

Часть В

I вариант			II вариант		
№ задания	ответ	ссылка на литературу	№ задания	ответ	ссылка на литературу
B1	абв	Л1. с.2-7	B1	ав	12. с.31,43
B2	аг	Л1с.9	B2	аб	Л.1. с.31,43
B3	абв	Л1. с.31	B3	абв	Л1. с.58-60
B4	абв	Л1. с.46	B4	ав	Л1. с.100
B5	вг	Л1. с.25	B5	аб	Л1. с.94.
B6	аб	Л1. с.39	B6	бв	Л.1 с.102
B7	авг	Л1. с.39	B7	аб	Л.1. с.24
B8	аг	Л1. с.102	B8	аб	Л.1 с.35

В9	аб	Л21 с.167	В9	абв	Л1 с.11
-----------	-----------	-----------	-----------	------------	---------

Часть С

Дайте развернутый ответ на вопрос.

С1. I вариант

Содержание верного ответа и указания к оцениванию (допускаются иные формулировки ответа, не искажающие его смысла)	Баллы
<p>Определите сопротивление нити электрической лампы мощностью 100 Вт, если лампа рассчитана на напряжение 220 В.</p> <p>Решение: Мощность электрической лампы $P = U \cdot I$; Сопротивление $R = U/I$. $I = P/U = 100\text{Вт}/220\text{В} = 0,45 \text{ А}$; $R = U/I$. $= 220\text{В}/0,45\text{А} = 488 \text{ Ом}$</p> <p>Ответ: 488 Ом</p>	
Получен правильный ответ	3
Ответ получен правильный, но не указаны единицы измерения	2
Способ решения правильный, но допущены ошибки в вычислениях	1
Решение неверно или отсутствует	0
Максимальный балл	3

Часть С

Дайте развернутый ответ на вопрос.

С1. II вариант

Содержание верного ответа и указания к оцениванию (допускаются иные формулировки ответа, не искажающие его смысла)	Баллы
<p>Какова потеря напряжения, если сопротивление одного провода двухпроводной линии постоянного тока равно 0,05 Ом, а через нагрузку течёт ток 10 А?</p> <p>Решение: Напряжение определяется по выражению $\Delta U_1 = I \cdot R = 10 \cdot 0,05 = 0,5 \text{ В}$ Так как линия двухпроводная, то $\Delta U = 2 \cdot \Delta U_1 = 2 \cdot 0,5 = 1 \text{ В}$</p> <p>Ответ 1 В</p>	
Получен правильный ответ	3
Ответ получен правильный, но не учтено, что линия двухпроводная	2
Способ решения правильный, но допущены ошибки в вычислениях	1
Решение неверно или отсутствует	0
Максимальный балл	3

Часть С

Дайте развернутый ответ на вопрос.

С1. III вариант

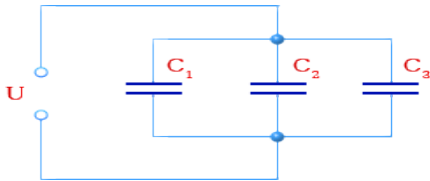
Содержание верного ответа и указания к оцениванию (допускаются иные формулировки ответа, не искажающие его смысла)	Баллы
<p>Три резистора соединены последовательно с величиной электрического сопротивления 30 Ом. Определите эквивалентное сопротивление цепи и напряжение на зажимах цепи, если сила тока составила 2 А. Начертить схему соединения резисторов.</p> <p>Решение: При последовательном соединении резисторов: $R_{\text{экв}} = R_1 + R_2 + R_3 = 30 + 30 + 30 = 90 \text{ Ом}$. Напряжение на зажимах цепи: $U = I \cdot R_{\text{экв}} = 2 \cdot 90 = 180 \text{ В}$</p>	

	
Ответ: 180 В	
Получен правильный ответ и показана схема соединения резисторов	3
Ответ получен правильный, нет схемы соединения резисторов	2
Способ решения правильный, но допущены ошибки в вычислениях	1
Решение неверно или отсутствует	0
Максимальный балл	3

Часть С

Дайте развернутый ответ на вопрос.

С1. IV вариант

<p>Содержание верного ответа и указания к оцениванию (допускаются иные формулировки ответа, не искажающие его смысла) Три конденсатора соединены параллельно. Ёмкость конденсаторов одинаковая $C_1=C_2=C_3=30$ мкФ. Какова эквивалентная ёмкость батареи конденсаторов при параллельном соединении? Начертить схему соединения конденсаторов.</p> <p>Решение: При параллельном соединении конденсаторов эквивалентная ёмкость определяется как сумма емкостей отдельных конденсаторов. $C_{э\text{кв}}=C_1+C_2+C_3=30+30+30=90$ мкФ</p>	Баллы
	
Ответ: 30 мкФ	
Получен правильный ответ и показана схема соединения конденсаторов	3
Ответ получен правильный, но не показана схема соединения конденсаторов	2
Способ решения правильный, но допущены ошибки в вычислениях	1
Решение неверно или отсутствует	0
Максимальный балл	3

БИЛЕТ № 1.

1. Электрическое поле, напряжённость.
2. Векторная диаграмма.
3. Задача:
При какой частоте индуктивное сопротивление катушки с индуктивностью 10 мГн станет равным 3,14 Ома?

БИЛЕТ № 2.

1. Потенциал. Разность потенциалов.
2. Переменный ток, цепи с Ra.
3. Задача:
При какой частоте ёмкостное сопротивление конденсатора емкостью 10 мкФ станет равным 31,847 кОм?

БИЛЕТ № 3.

1. Закон Кулона.
2. Переменный ток, цепи с XL.

3. Задача:
Определите скорость проводника длиной 0,4 м, движущегося в магнитном поле с индукцией 14 мТл перпендикулярно его магнитным линиям со скоростью 5 м/с, если на концах проводника индуцируется ЭДС, равная 8,6 мВ.

БИЛЕТ № 4.

1. Электрический конденсатор, ёмкость.
2. Переменный ток, цепи с ХС.
3. Задача:
Амплитуда напряжения равна 310 В. Определите действующее значение напряжения.

БИЛЕТ № 5.

1. Соединение конденсаторов.
2. Параметры переменного тока.
3. Задача:
Определите величину магнитной индукции поля постоянного магнита, если при протекании по проводнику длиной 0,5 метра тока в 5 А на проводник действует сила 0,25 Н.

БИЛЕТ № 6.

1. Электрический ток, электрическая цепь.
2. График переменного тока.
3. Задача:
Определите силу тока в проводнике длиной 0,5 метра, если на проводник действует сила 0,25 Н. Величина магнитной индукции поля постоянного магнита равна 0,1 Тл.

БИЛЕТ № 7.

1. Законы соединения резисторов (последовательно).
2. Гистерезис.
3. Задача:
Определите величину магнитного потока, проходящего через перпендикулярно расположенную рамку площадью 0,5 м², если магнитная индукция поля равна 0,003 Тл.

БИЛЕТ № 8.

1. Законы соединения резисторов (параллельно).
2. Самоиндукция.
3. Задача:
Определите силу, действующую на проводник длиной 0,5 метра, если по проводнику протекает ток 5 А. Величина магнитной индукции поля постоянного магнита равна 0,1 Тл.

БИЛЕТ № 9.

1. Сопротивление проводника.
2. Индуктивность.
3. Задача:
Чему равна ЭДС реального источника с внутренним сопротивлением 0,5 Ома, если при токе в цепи 2 А напряжение на его зажимах равно 23 В?

БИЛЕТ № 10.

1. Явление ЭМИ.
2. Закон Ома для участка цепи.
3. Задача:

Два резистора $R_1 = 20 \text{ Ом}$ и $R_2 = 30 \text{ Ом}$ соединены последовательно. Определите напряжение на втором резисторе и напряжение на входе цепи, если ток в цепи равен 5 А .

БИЛЕТ № 11.

1. Закон Ома для полной цепи.
2. Сила Ампера.
3. Задача:
Два резистора $R_1 = 10 \text{ Ом}$ и $R_2 = 15 \text{ Ом}$ соединены параллельно. Определите напряжение на входе цепи, если ток в общей цепи равен 5 А .

БИЛЕТ № 12.

1. ЭДС, напряжение.
2. Сила Лоренца.
3. Задача:
Два резистора $R_1 = 10 \text{ Ом}$ и R_2 соединены параллельно. Определите величину первого резистора, если токи в резисторах равны соответственно $I_1=3\text{А}$ и $I_2=2\text{А}$.

БИЛЕТ № 13.

1. I закон Кирхгофа.
2. Характеристики магнитной цепи.
3. Задача:
Определите затраченную электрическую энергию электровозом при его непрерывной работе в течение 8 часов, если при напряжении в контактной сети 3 кВ сила тока в цепи электровоза составила 60 А .

БИЛЕТ № 14.

1. Закон Джоуля-Ленца.
2. Аппараты управления. Реле.
3. Задача:
Определите ток, протекающий в цепи электроустановки, если при её мощности в 50 кВт электрическое сопротивление электроустановки составляет 2 кОм .

БИЛЕТ № 15.

1. Закон Ома.
2. Магнитные свойства вещества.
3. Задача:
Два резистора $R_1 = 10 \text{ Ом}$ и $R_2 = 15 \text{ Ом}$ соединены параллельно. Определите напряжение на входе цепи, если ток в общей цепи равен 5 А .